



Lernwörter 6


Schule Schere schneiden Tasche
schwimmen


1


Montag: Schreibe jedes Wort 3 mal.

 Schule

 Schere

 schneiden

 Tasche

 schwimmen

2

Dienstag: Lies die Sätze. Schreibe jedes unterstrichene Wort 1 mal.
Markiere a,e,i,o,u und ☺

Wir schwimmen im Wasser. Ich schneide gerne
mit der Schere. Meine Tasche ist in der Schule.



Handwriting practice area with two rows of lines. Each row starts with a small house icon on the left side.

3

Mittwoch: Lies die Wörter auf der Vorderseite und schreibe sie 3 mal auswendig auf.

Handwriting practice area with five rows of lines. Each row starts with a small house icon on the left side.

4

Donnerstag: Schreibe die Sätze 1 mal auswendig auf.

Handwriting practice area with four rows of lines. Each row starts with a small house icon on the left side.

Sch sch

1 

Sch Sch


sch sch sch

Sch Sch Sch Sch

sch sch sch sch



Schu
le





schla
fen

Name: _____


Datum: _____

Sch sch



1




Sch : 5 sch : 7

Tisch	Schere	schwarz
 Schirm	waschen	Schwein
schneiden	Flasche	lachen
Tasche	Schule	Becher
Schal	schreiben	


2


a	e
---	---




au	e
----	---




u	e
---	---



e	e
---	---



u	e
---	---




a

Name: _____

Datum: _____

Sch sch

1



Schaukel

Schwein

Dusche

Schiff

Flasche

Rutsche

Schal

2



Im Sand

Male den Schirm gelb an.

Male die Schaufel rot an.

Male die Muschel rosa an.

Male die Harke lila an.

Male eine kleine Sandburg.

Male einen blauen Eimer.

Male ein schwarzes Sieb.

Name:

Datum:

A37



Lauter Aufgabenfamilien! Fülle die leeren Kästchen aus.



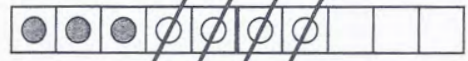
$$\boxed{4} + \boxed{3} = \boxed{}$$



$$\boxed{3} + \boxed{4} = \boxed{}$$



$$\boxed{7} - \boxed{3} = \boxed{}$$



$$\boxed{7} - \boxed{4} = \boxed{}$$



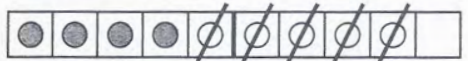
$$\boxed{5} + \boxed{4} = \boxed{}$$



$$\boxed{4} + \boxed{5} = \boxed{}$$



$$\boxed{9} - \boxed{} = \boxed{}$$



$$\boxed{9} - \boxed{} = \boxed{}$$



$$\boxed{} + \boxed{} = \boxed{}$$



$$\boxed{} + \boxed{} = \boxed{}$$



$$\boxed{} - \boxed{} = \boxed{}$$



$$\boxed{} - \boxed{} = \boxed{}$$



$$\boxed{} + \boxed{} = \boxed{}$$



$$\boxed{} + \boxed{} = \boxed{}$$



$$\boxed{} - \boxed{} = \boxed{}$$



$$\boxed{} - \boxed{} = \boxed{}$$

Name:

Datum:

A41



Mehr Plus- und Minusaufgaben zum Üben! Rechne aus.



$$\boxed{3} + \boxed{2} = \boxed{}$$

$$\boxed{4} + \boxed{2} = \boxed{}$$

$$\boxed{10} - \boxed{3} = \boxed{}$$

$$\boxed{2} - \boxed{1} = \boxed{}$$

$$\boxed{6} - \boxed{2} = \boxed{}$$

$$\boxed{5} + \boxed{3} = \boxed{}$$

$$\boxed{5} + \boxed{2} = \boxed{}$$

$$\boxed{2} + \boxed{2} = \boxed{}$$

$$\boxed{8} - \boxed{5} = \boxed{}$$

$$\boxed{7} - \boxed{3} = \boxed{}$$

$$\boxed{8} - \boxed{3} = \boxed{}$$

$$\boxed{9} - \boxed{3} = \boxed{}$$

$$\boxed{6} + \boxed{2} = \boxed{}$$

$$\boxed{7} + \boxed{2} = \boxed{}$$

$$\boxed{3} - \boxed{2} = \boxed{}$$

$$\boxed{2} + \boxed{4} = \boxed{}$$

$$\boxed{8} + \boxed{2} = \boxed{}$$

$$\boxed{2} + \boxed{3} = \boxed{}$$

$$\boxed{4} - \boxed{2} = \boxed{}$$

$$\boxed{3} + \boxed{3} = \boxed{}$$

$$\boxed{10} + \boxed{0} = \boxed{}$$

$$\boxed{9} - \boxed{4} = \boxed{}$$

$$\boxed{7} - \boxed{2} = \boxed{}$$

$$\boxed{6} - \boxed{3} = \boxed{}$$

$$\boxed{5} + \boxed{4} = \boxed{}$$

$$\boxed{10} - \boxed{2} = \boxed{}$$

$$\boxed{6} + \boxed{3} = \boxed{}$$

$$\boxed{9} + \boxed{1} = \boxed{}$$

$$\boxed{4} + \boxed{4} = \boxed{}$$

$$\boxed{8} - \boxed{4} = \boxed{}$$

$$\boxed{4} + \boxed{0} = \boxed{}$$

$$\boxed{10} - \boxed{1} = \boxed{}$$

$$\boxed{9} - \boxed{5} = \boxed{}$$

$$\boxed{10} - \boxed{6} = \boxed{}$$

$$\boxed{2} + \boxed{6} = \boxed{}$$

$$\boxed{5} - \boxed{4} = \boxed{}$$

$$\boxed{5} - \boxed{5} = \boxed{}$$

$$\boxed{8} - \boxed{1} = \boxed{}$$

$$\boxed{7} - \boxed{4} = \boxed{}$$

$$\boxed{7} + \boxed{3} = \boxed{}$$

$$\boxed{7} - \boxed{5} = \boxed{}$$

$$\boxed{3} + \boxed{4} = \boxed{}$$

$$\boxed{5} - \boxed{2} = \boxed{}$$

$$\boxed{6} + \boxed{4} = \boxed{}$$

$$\boxed{4} + \boxed{5} = \boxed{}$$

Name: _____

Datum: _____

Ü4



Rechne die Aufgaben so schnell wie möglich aus.

$$\boxed{8} - \boxed{3} = \boxed{}$$

$$\boxed{4} + \boxed{5} = \boxed{}$$

$$\boxed{0} + \boxed{6} = \boxed{}$$

$$\boxed{8} - \boxed{2} = \boxed{}$$

$$\boxed{6} - \boxed{3} = \boxed{}$$

$$\boxed{6} + \boxed{2} = \boxed{}$$

$$\boxed{4} - \boxed{3} = \boxed{}$$

$$\boxed{9} - \boxed{1} = \boxed{}$$

$$\boxed{5} + \boxed{3} = \boxed{}$$

$$\boxed{0} + \boxed{8} = \boxed{}$$

$$\boxed{7} - \boxed{3} = \boxed{}$$

$$\boxed{10} - \boxed{} = \boxed{4}$$

$$\boxed{} + \boxed{2} = \boxed{6}$$

$$\boxed{} + \boxed{3} = \boxed{10}$$

$$\boxed{5} - \boxed{2} = \boxed{}$$

$$\boxed{10} - \boxed{6} = \boxed{}$$

$$\boxed{2} + \boxed{4} = \boxed{}$$

$$\boxed{10} + \boxed{0} = \boxed{}$$

$$\boxed{6} + \boxed{3} = \boxed{}$$

$$\boxed{9} - \boxed{3} = \boxed{}$$

$$\boxed{5} - \boxed{2} = \boxed{}$$

$$\boxed{7} - \boxed{5} = \boxed{}$$

$$\boxed{8} - \boxed{7} = \boxed{}$$

$$\boxed{3} + \boxed{5} = \boxed{}$$

$$\boxed{10} - \boxed{4} = \boxed{}$$

$$\boxed{} + \boxed{4} = \boxed{9}$$

$$\boxed{5} + \boxed{} = \boxed{10}$$

$$\boxed{10} - \boxed{} = \boxed{5}$$

$$\boxed{2} + \boxed{} = \boxed{9}$$

$$\boxed{8} - \boxed{6} = \boxed{}$$












Du hast _____ Minuten und _____ Sekunden zum Rechnen gebraucht.

Name: _____ Datum: _____

A7 2¹/₃

Zähle die Punkte und schreibe die Zahl in das Kästchen.




Name:

Datum:

A8

2¹₃

Wie heißen die Vorgänger und Nachfolger?



Vorgänger



Nachfolger



	13	
--	----	--

Vorgänger



Nachfolger



	8	
--	---	--

Vorgänger



Nachfolger



	6	
--	---	--

Vorgänger



Nachfolger



	4	
--	---	--

Vorgänger



Nachfolger



	12	
--	----	--

Vorgänger



Nachfolger



	14	
--	----	--

Vorgänger



Nachfolger



	5	
--	---	--

Vorgänger



Nachfolger



	11	
--	----	--

Vorgänger



Nachfolger



	10	
--	----	--

Vorgänger



Nachfolger



	7	
--	---	--

Vorgänger



Nachfolger



	15	
--	----	--

Vorgänger



Nachfolger



	17	
--	----	--

Vorgänger



Nachfolger



	9	
--	---	--

Vorgänger



Nachfolger



	19	
--	----	--

Vorgänger



Nachfolger



	18	
--	----	--

Vorgänger



Nachfolger



	16	
--	----	--