

Name: _____

Datum: _____

-ie



1



ie ie ie ie

ie ie ie ie

ie ie ie ie



Zie

ge

Handwriting practice line for 'Ziege'.



Lie

be

Handwriting practice line for 'Liebe'.



Bie

ne

Handwriting practice line for 'Biene'.



Lie

ge

Handwriting practice line for 'Liege'.

© 2018 Cornelsen Verlag GmbH, Berlin. Alle Rechte vorbehalten.

Die Vervielfältigung dieser Seite ist für den eigenen Unterrichtsgebrauch gestattet. Für inhaltliche Veränderungen durch Dritte übernimmt der Verlag keine Verantwortung.



1



ie : 10

Ziege

Leiter

Brief

Fliege

die

fliegen

Tier

laut

Knie

Sieb

Biene

lieben

Auge


2



Liebe



Riese



Sieb



fliegen



liegen



Dieb

Lernwörter 4

die lieben fliegen Biene Tier

1

Montag: Schreibe jedes Wort 3 mal.



die



lieben



fliegen



Biene



Tier

2

Dienstag: Lies die Sätze. Schreibe jedes unterstrichene Wort 1 mal.

Markiere a, e, i, o, u und



Im Zoo sind Tiere. Kinder lieben Musik.
Die Bienen fliegen hoch.





3

Mittwoch: Lies die Wörter auf der Vorderseite und schreibe sie 3 mal auswendig auf.



4

Donnerstag: Schreibe die Sätze 1 mal auswendig auf.



Name:


Datum:

A1

2¹/₃

Ordne die Zahlen in der richtigen Reihenfolge. Verbinde.

1	4	6	10	13	15	18
2	5	8	11	14	16	19
3	7	9	12	17	20	



Welche Zahl muss in welchem Kästchen stehen? Schreibe sie hinein.

1												
	3		6		9		12		15	17		20

Hier sind die Zahlen durcheinandergeraten. Bringe sie wieder in die richtige Reihenfolge und schreibe sie in die Kästchen.

4	10	19	15	3
11	14	2	13	5
9	18	7	20	17
	6	16	1	12
			8	

1																		
---	--	--	--	--	--	--	--	--	--	--	--	--	--	--	--	--	--	--

Name:

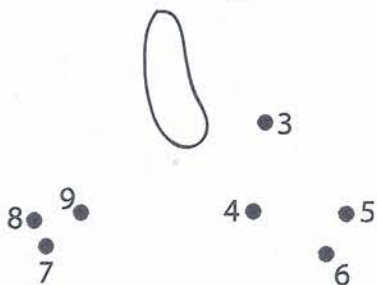

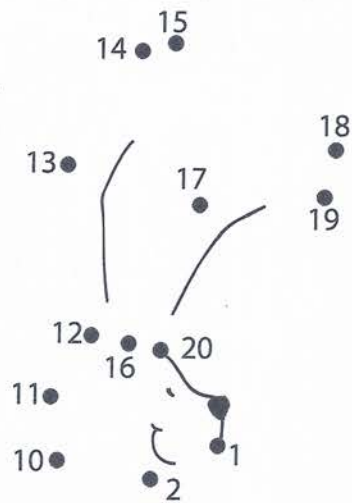
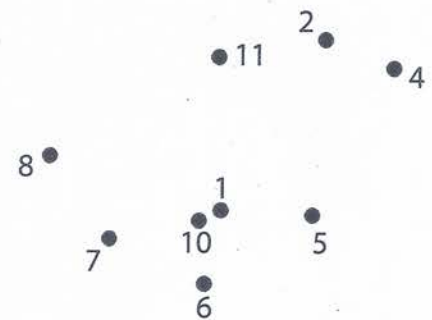

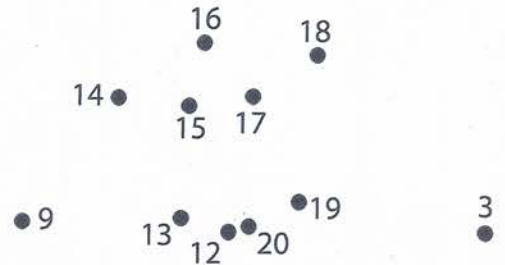
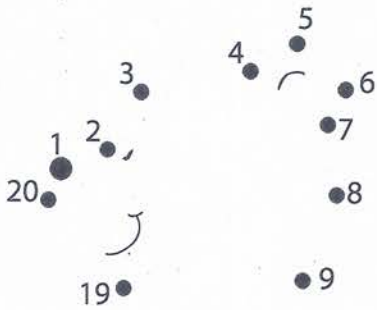
Datum:

A2

2¹/₃

Welche Figuren sind hier versteckt?

Verbinde die Zahlen in der richtigen Reihenfolge, dann kannst du es sehen.



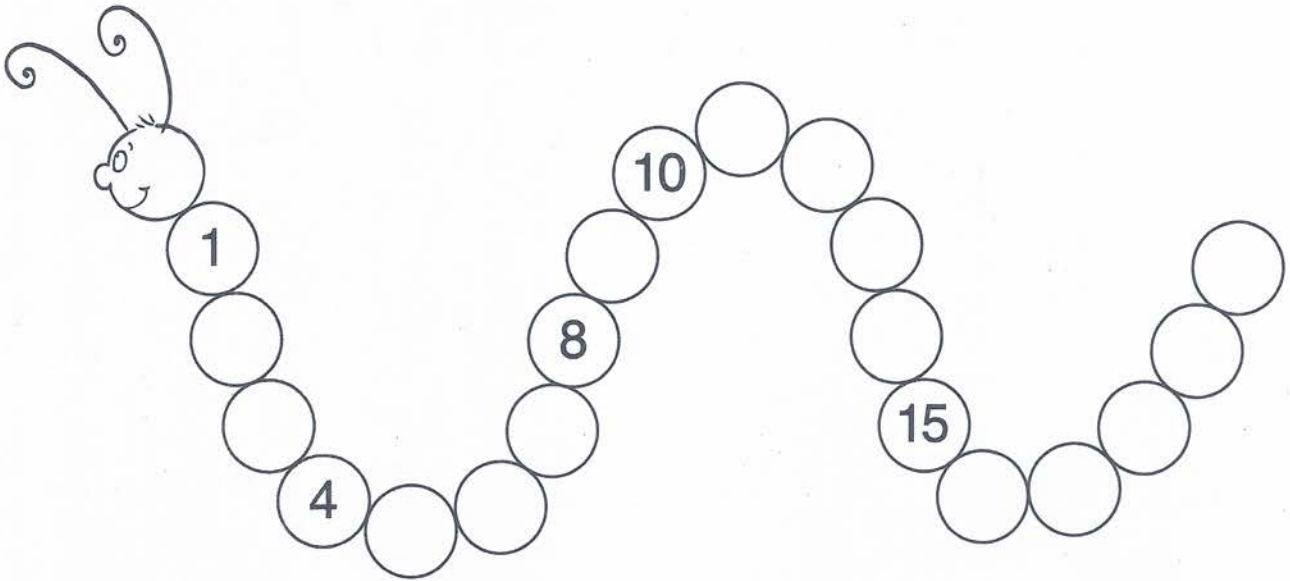
Name:

Datum:


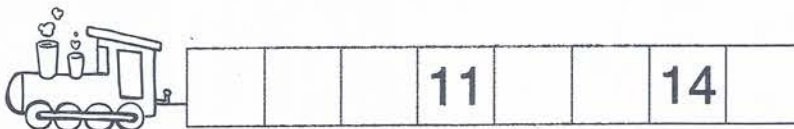
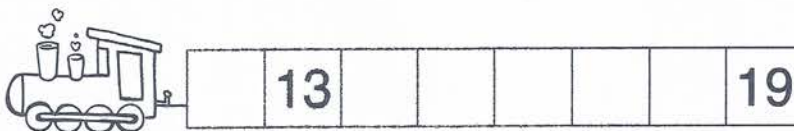


A3

2¹/₃

Zähle vorwärts und trage die fehlenden Zahlen ein.



Ergänze die fehlenden Zahlen.



Name:

Datum:

A6

2¹/₃

Welche Zahlen fehlen? Schreibe sie rot in die Kästchen.

	2		4		6		8		10		12		14		16		18		20
--	---	--	---	--	---	--	---	--	----	--	----	--	----	--	----	--	----	--	----

1		3		5		7		9		11		13		15		17		19	
---	--	---	--	---	--	---	--	---	--	----	--	----	--	----	--	----	--	----	--

20		18		16		14		12		10		8		6		4		2	
----	--	----	--	----	--	----	--	----	--	----	--	---	--	---	--	---	--	---	--

	19		17		15		13		11		9		7		5		3		1
--	----	--	----	--	----	--	----	--	----	--	---	--	---	--	---	--	---	--	---

Finde heraus, welche Zahlen in jeder Reihe fehlen.
Schreibe sie in die Kästchen unter der Zahlenreihe.

1 2 3 4 6 7 8 9 10 11 12 14 15 16 17 18 20



--	--	--

1 2 3 4 5 6 7 8 9 11 12 14 15 16 18 19 20

--	--	--

20 19 17 16 15 14 12 11 10 9 8 7 6 5 4 2 1

--	--	--

20 19 18 16 15 14 13 11 10 9 8 7 5 4 3 2 1

--	--	--

1

10	+	4	+	6
10	+	1	+	
10	+	0	+	
10	+	5	+	

10	+	6	+	
10	+	2	+	
10	+	7	+	
10	+	3	+	

10	+	0	+	
10	+	8	+	
10	+	3	+	
10	+	10	+	

10	+	9	+	
10	+	1	+	
10	+	2	+	
10	+	4	+	

10	+	8	+	
10	+	5	+	
10	+	9	+	
10	+	6	+	

Aufgaben mit 10

2

$5 + \quad = 10$	$+ 1 = 10$	$10 = 6 + \quad$	$10 - 3 = \quad$
$4 + \quad = 10$	$+ 8 = 10$	$10 = 10 + \quad$	$10 - 2 = \quad$
$9 + \quad = 10$	$+ 7 = 10$	$10 = 3 + \quad$	$10 - 7 = \quad$

3

10	3	7
10	5	
10	6	
10	9	
10		1

