

















Montag, 12.04.2021		
 <p>Deutsch</p>	<p>1. Bearbeite Seite 16 und 17 im ABC-Übungsheft. → → → 2. Bearbeite eine Seite im Schreibschriftheft oder, wenn du damit fertig bist, arbeite im Lupenheft.</p>	<p>Foto</p>
 <p>Mathe</p>	<p>Rechne die Aufgaben auf dem Matheblatt.</p>	
 <p>Freiarbeit</p>	<p>Schreibschriftheft, Lupenheft Lies mal Anton Höre dir auf itslearning ein Kapitel von den Olchis an</p>	

Dienstag, 13.04.2021		
 <p>Deutsch</p>	<p>Bearbeite das Arbeitsblatt „Meine Osterferien“. Schreibe, was du in den Ferien gemacht hast.</p>	
 <p>Mathe</p>	<p>Buch S. 46 Nr. 2. Schreibe die Aufgaben mit Rechenweg in dein Heft. → → → → → → → → → → → →</p>	<p>Foto</p>
 <p>Kunst</p>	<p>Male ein Bild zu deinen Osterferien.</p>	
 <p>Freiarbeit</p>	<p>Schreibschriftheft, Lupenheft Lies mal Anton Höre dir auf itslearning ein Kapitel von den Olchis an</p>	

Mittwoch, 14.04.2021		
 Deutsch	Bearbeite Seite 18, 19 und 21 im ABC-Übungsheft. → →	Foto
 Mathe	Buch S. 46 Nr. 3. Schreibe die Aufgaben mit Rechenweg in dein Heft.	
 Freiarbeit	Schreibschriftheft, Lupenheft Lies mal Anton Höre dir auf itslearning ein Kapitel von den Olchis an	

Donnerstag, 15.04.2021		
 Deutsch	Bearbeite Seite 20 im ABC-Übungsheft. → → → →	Foto
 Mathe	Buch S. 46 Nr. 4. Schreibe die Aufgaben mit Rechenweg in dein Heft.	
 Freiarbeit	Schreibschriftheft, Lupenheft Lies mal Anton Höre dir auf itslearning ein Kapitel von den Olchis an	

Freitag, 16.04.2021		
 Deutsch	Bearbeite Seite 26 im ABC-Übungsheft. → → → → →	Foto
 Mathe	Arbeitsheft S. 19 Nr. 1 → → → → → → → →	Foto
 Freiarbeit	Schreibschriftheft, Lupenheft Lies mal Anton Höre dir auf itslearning ein Kapitel von den Olchis an	

1) Setze die Reihen fort.

- a) $3 + 4 =$ _____
 $13 + 4 =$ _____
 $23 + 4 =$ _____
 $33 + 4 =$ _____
 $43 +$ _____
 53 _____
- b) $7 + 6 =$ _____
 $17 + 6 =$ _____
 $27 + 6 =$ _____
 $37 + 6 =$ _____
 $47 +$ _____
 57 _____
- c) $9 + 5 =$ _____
 $19 + 5 =$ _____
 $29 + 5 =$ _____
 $39 + 5 =$ _____
 $49 +$ _____
 59 _____

2) Rechne auch hier weiter.

- a) $8 - 5 =$ _____
 $18 - 5 =$ _____
 $28 - 5 =$ _____
 $38 - 5 =$ _____
 $48 -$ _____
 58 _____
- b) $11 - 3 =$ _____
 $21 - 3 =$ _____
 $31 - 3 =$ _____
 $41 - 3 =$ _____
 $51 -$ _____
 61 _____
- c) $15 - 8 =$ _____
 $25 - 8 =$ _____
 $35 - 8 =$ _____
 $45 - 8 =$ _____
 $55 -$ _____
 65 _____

Wieder hin die kleine Aufgaben!



3) Rechne. Trage die Ergebnisse auch in die Hundertertafel ein.

1	2	3	4	5	6	7	8	9	10
				25					20
									30
						38			40
41									50
		53							60
		63							70
					76				80
			84						90
									100

$53 + 10 = 63$
 $53 - 10 =$ _____

$41 + 10 =$ _____
 $41 - 10 =$ _____

$35 + 20 =$ _____
 $35 - 20 =$ _____

$76 + 20 =$ _____
 $76 - 20 =$ _____

$38 + 20 =$ _____
 $38 - 20 =$ _____


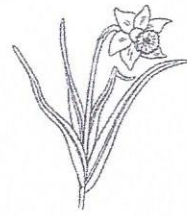
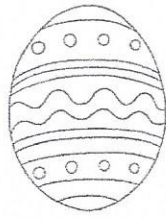

$84 + 10 =$ _____
 $84 - 10 =$ _____

4) Setze die Reihen fort.

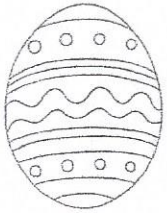

$35 + 10 =$ _____
 $35 + 20 =$ _____
 $35 + 30 =$ _____
 $35 + 40 =$ _____


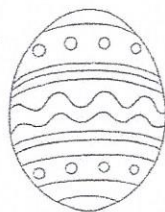

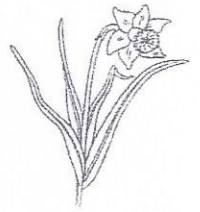
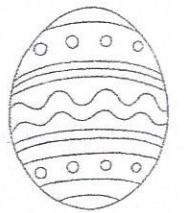
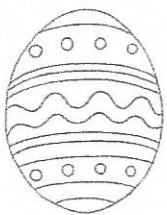


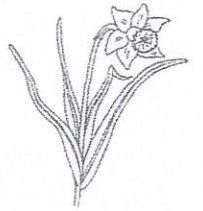
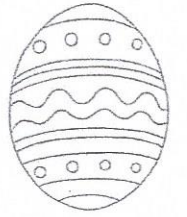
$76 - 10 =$ _____
 $76 - 20 =$ _____
 $76 - 30 =$ _____
 $76 - 40 =$ _____


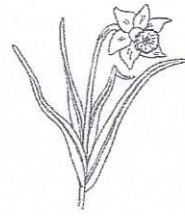
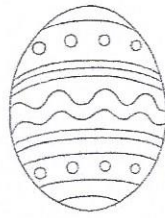

$59 + 10 =$ _____
 $59 - 10 =$ _____
 $59 + 20 =$ _____
 $59 - 20 =$ _____



Meine Osterferien







Mein Osterferienbild

